

## 日本のすがた

1 次の文を読んで、問にこたえなさい。

あさこ このあいだ地図を見ていたのね。そうしたら、学校の地理の授業を思い出したんだ。

けんた 日本の国土は、(ア)大陸の東側にある島国で、広さは38万平方km<sup>2</sup>だって習ったよ。

あさこ 南北に細長い国土っていうけれど、ただ細長いだけじゃなくて、弓のような形をしているね。それに北海道・本州・四国・九州のような大きな島もあれば、南西諸島、伊豆・小笠原諸島、千島列島の一部とか、たくさんの小さな島も全部あわせて、日本の国土なんだよね。

けんた だから日本の領土のいちばん端は、東西南北のどの方角でも、島によって区切られているんだね。

あさこ そうそう。えっと、地図帳のこのページを見てみるとわかるよ。南鳥島に、沖ノ鳥島でしょ。それに、与那国島。あれ。これはどの県に入るんだろう。

けんた 南鳥島と沖ノ鳥島は(イ)で、与那国島は(ウ)だよ。覚えたんだ。

あさこ すごいね、けんた君。それで北の端にあるのが択捉島だよ。

けんた この島は、領土をめぐる話し合いが、(エ)を相手につづけられているって聞いたよ。それに、沖繩本島とか今は(オ)にぞくしている奄美大島とそのまわりの島々は、(カ)戦争のあと、(キ)に占領されていて、しばらくたってから日本に返されたんだ。

あさこ そういえば、その話は歴史の勉強をしたときに聞いたことがあるよ。このほかにも日本のまわりの海には、いろんな島があるよ。佐渡島は(ク)にあって、隠岐諸島は(ケ)にあるでしょ、(コ)海の東にあるのが淡路島ね。

けんた 日本の島って、海を行き来する船の中継地になっていて、(A)外国からのものや・文化が日本に伝わってくる時の玄関口になってきたんだ。それだけに、戦争の犠牲になったり、(B)外国の支配下におかれることもあったんだね。

あさこ 本土から遠く離れている島だから、(C)ゆたかな自然がのこっているんだけど、その一方で、本土との交通の便が悪かったり、病院が少ないことなど不便なこともあるよね。

けんた 「(D)日本は島国」ってひとことでいうけれど、こうやって考えてみると、それぞれの地域やそれぞれの島で、いろいろな人々の暮らしがあって、歴史があるんだよね、すごく深いんだなって思ったよ。

問1 文中の( )にあてはまる語句を、語群1 から選んで記号でこたえなさい。

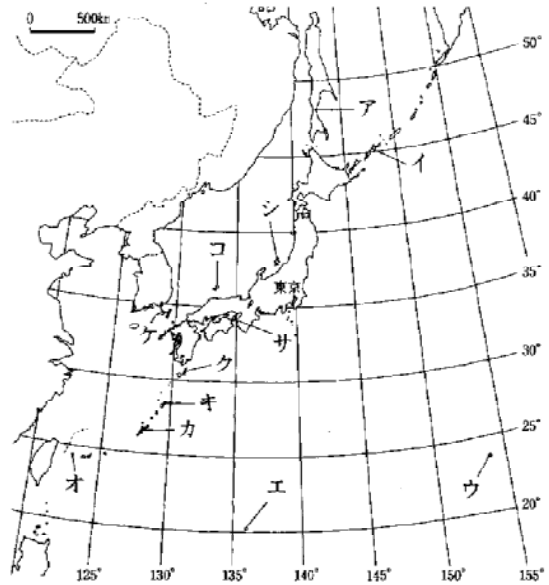
語群1	あ	アメリカ	い	ロシア	う	カナダ	え	ユーラシア	
お	東京都	か	鹿児島県	き	沖縄県	く	新潟県	け	山形県
こ	島根県	さ	鳥取県	し	大阪府	す	兵庫県	せ	徳島県
そ	香川県	た	中国	ち	太平洋	つ	日本	て	瀬戸内
と	東シナ								

問2 文中の ~ の島の位置を、それぞれ次の地図上の記号から選びなさい。

問3 下線部(A)について、下の(1)~(3)は、いずれも海外の物資や文化をとりいれる重要な

きっかけをつくった島について説明しています。どの島について説明したものか、あてはまるものを、それぞれ 語群 2 から選んで記号でこたえなさい。

- (1) 戦国時代に、この島に鉄砲が伝えられました。鉄砲の作り方はまたくまにひろがって、天下統一の動きを早めました。
- (2) 江戸時代には、鎖国のために、外国との貿易はオランダと中国にかぎられ、その貿易は、長崎につくられたこの島でだけおこなわれました。
- (3) 幕末にアメリカから日本に来た「黒船」は、江戸に来る途中、沖縄、およびこの島に立ち寄りました。この島は、現在は東京都に属しています。



語群 2

- |        |        |             |       |         |  |
|--------|--------|-------------|-------|---------|--|
| あ 屋久島  | い 西表島  | う 種子島       |       |         |  |
| え 対馬   | お 宮古島  | か 竹島        | き 八丈島 | く 三宅島   |  |
| け 礼文島  | こ 式根島  | さ 出島        | し 石垣島 | す 小笠原諸島 |  |
| せ 大島   | そ 齒舞諸島 | た 千島列島      | ち 台湾  | つ 濟州島   |  |
| て ルソン島 | と ジャワ島 | な サハリン(樺太)島 |       | に 淡路島   |  |
| ぬ 小豆島  |        |             |       |         |  |

問 4 下線部 (A) について、7～9 世紀にかけて、中国の制度や文化を取り入れるため、日本から出された使いを何といいますか。

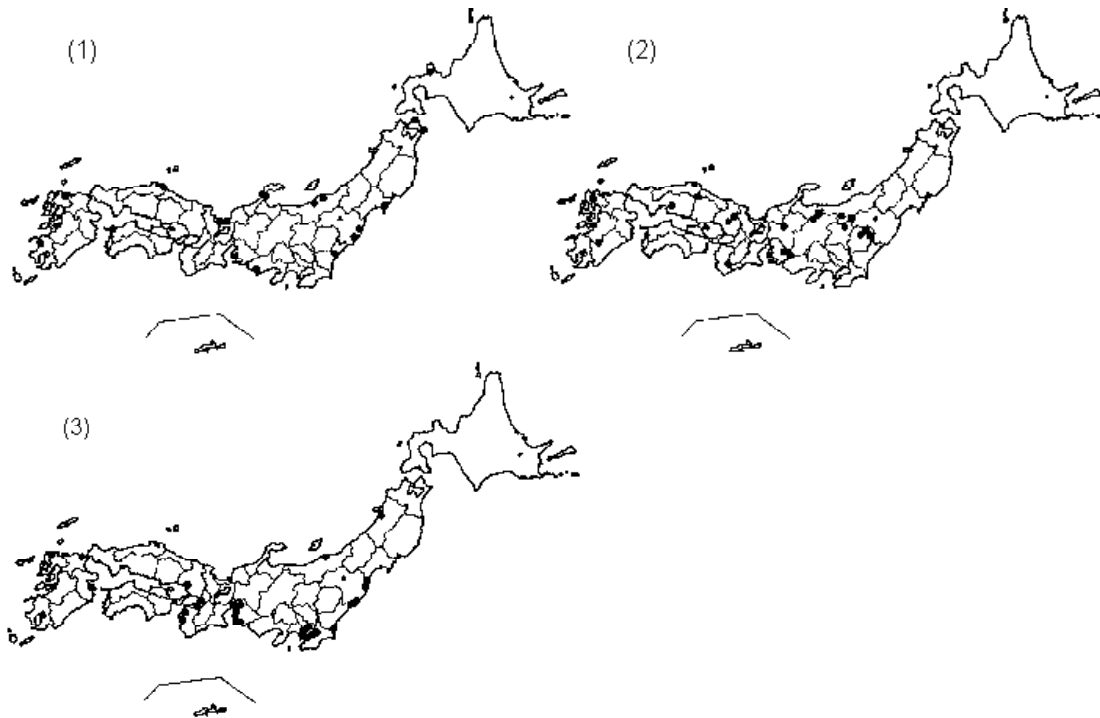
問 5 下線部 (B) について、次の (1)～(3) は、いずれも現在の国境とはことなる国の支配下におかれたことのある(あるいは、現在支配下にある)島です。どの島について説明したものか、あてはまるものを、それぞれ 語群 2 から選んで記号でこたえなさい。

- (1) 根室のすぐ沖合いにあるこの諸島は、もともと日本の領土だったところですが、戦後、現在にいたるまで外国に占領されています。
- (2) 与那国島のさらに西にあるこの大きな島は、もともと中国(清)の領土でしたが、日清戦争に勝った日本がとりあげていました。
- (3) 北海道のさらに北にあるこの大きな島は、ロシアの領土でしたが、日露戦争で日本が、その南の半分を領有することになりました。

問 6 下線部 (C) について、島にとって電力の確保は重要な問題です。さて、下の 3 枚の地図は、日本のおもな発電所の分布を示したものです。それぞれは、火力・水力・原子力のどの分布を示したのですか。語群 3 から記号で選びなさい。また、それぞれを選んだ理由を、かんたんに説明しなさい。

語群 3

- |      |      |       |
|------|------|-------|
| あ 火力 | い 水力 | う 原子力 |
|------|------|-------|



問7 下線部(C)について、温室効果ガスの排出量を制限することをめざして1997年に結ばれた各国間の取り決めを何といいますか。

問8 次の文は、島に住んでいる友だちから届いたものです。どの島から届いた手紙か、語群2から選んで記号でこたえなさい。

- (1) ぼくたちの島では、2000年に火山の噴火があって、島の人たちがみんな避難しました。いまでもぼくたちは東京で暮らしていますが、島に帰れるまで、がんばります。
- (2) ぼくの島は世界遺産に登録されていて、有名な杉の木があります。島にはとても高い山がそびえていて、一年を通して雨が多いことも特徴です。
- (3) わたしの島は、本州・四国と連絡橋で結ばれています。阪神地方をおそった震災では大きな被害を受けました。

問9 下線部(D)について、つぎの(1)から(3)の諸国は、共通の地理上の特徴をもった国々です。同じ特徴を持つ国を、あとの語群4から1つずつ選んで記号でこたえなさい。

- (1) 日本、ニュージーランド、キューバ
- (2) 中華人民共和国、ロシア連邦、オーストラリア
- (3) アフガニスタン、スイス、ネパール

語群4

- あ モンゴル    い アメリカ合衆国    う イギリス  
え ベトナム    お フランス

問10 下線部(D)について、日本の近くの海では、暖流と寒流がぶつかりあって、ゆたかな漁場となっています。このような場所を何といいますか。

(湘南学園)

2 右下の略図は日本とその周辺に関するものです。あとの問いに答えなさい。

(1) 図中の印は日本の標準時をしめす都市です。

次から正しい組み合わせを選び、記号で答えなさい。

- ア 東経135度 - 兵庫県姫路市
- イ 西経135度 - 兵庫県姫路市
- ウ 東経135度 - 兵庫県明石市
- エ 西経135度 - 兵庫県明石市



(2) 図中のの部分(印)は北方領土と呼ばれる島々です。次から正しい組み合わせを選び、記号で答えなさい。

- ア 択捉島・国後島・色丹島・歯舞諸島
- イ 択捉島・国後島・色丹島・礼文島
- ウ 樺太・国後島・奥尻島・歯舞諸島
- エ 択捉島・利尻島・色丹島・歯舞諸島

(3) 図中のCにあたる、日本で最も西にあたる島を次から選び、記号で答えなさい。

- ア 宮古島    イ 石垣島    ウ 西表島    エ 与那島

(4) 次の問いに答えなさい。

2002年、サッカーのワールドカップを日本とした国は、図中のAとBどちらの国ですか。

A国とB国は1950年に戦争をしています。その戦争の休戦協定が結ばれ、両国を分ける北緯38度線にあたる図中のの部分(印)の地名を答えなさい。

(5) 日本にとって中国はアジア最大の貿易相手国です。下の表は中国から日本への輸入の割合をしめています。表中の( )に入るものを次から選び、記号で答えなさい。

- ア 衣類    イ 石炭    ウ 医薬品    エ パルプ

(6) 図中のDは、海流を表しています。

この海流を何といいますか。

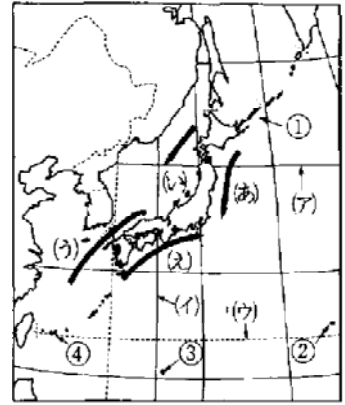
この海流は、日本の農業に大きな影響をあたえています。どのような影響をあたえているのか、「宮崎平野」または「高知平野」を例にあげて説明しなさい。

輸入品	輸入額(百万円)
( )	1242844
機械	938654
食品	484514
その他	440455
精密機械	159652
原油	101367
金属製品	76892
『日本国勢図会2000/2001』	

(国府台女子)

3 下の地図を見て、後の(1)~(5)に答えなさい。

(1) 上の地図中 ~ は、それぞれ日本の北端・東端・南端・西端を表しています。と の島名の組み合わせとして正しいものはどれですか。次の(ア)~(シ)の中から1つ選び、記号で答えなさい。



- (ア) 択捉島・ 沖ノ鳥島
- (イ) 沖ノ鳥島・ 南鳥島
- (ウ) 南鳥島・ 与那国島
- (エ) 与那国島・ 択捉島
- (オ) 択捉島・ 南鳥島
- (カ) 沖ノ鳥島・ 与那国島
- (キ) 南鳥島・ 択捉島
- (ク) 与那国島・ 沖ノ鳥島
- (ケ) 択捉島・ 与那国島
- (コ) 沖ノ鳥島・ 択捉島
- (サ) 南鳥島・ 沖ノ鳥島
- (シ) 与那国島・ 南鳥島

(2) 上の地図中 ~ は、それぞれ日本の北端・東端・南端・西端を表しています。と の島名の組み合わせとして正しいものはどれですか。次の(ア)~(シ)の中から1つ選び、記号で答えなさい。

- (ア) 択捉島・ 沖ノ鳥島
- (イ) 沖ノ鳥島・ 南鳥島
- (ウ) 南鳥島・ 与那国島
- (エ) 与那国島・ 択捉島
- (オ) 択捉島・ 南鳥島
- (カ) 沖ノ鳥島・ 与那国島
- (キ) 南鳥島・ 択捉島
- (ク) 与那国島・ 沖ノ鳥島
- (ケ) 択捉島・ 与那国島
- (コ) 沖ノ鳥島・ 択捉島
- (サ) 南鳥島・ 沖ノ鳥島
- (シ) 与那国島・ 南鳥島

(3) 上の地図中(あ)~(え)にあてはまる、日本近海を流れる海流の呼び名として正しい組み合わせはどれですか。次の ~ の中から1つ選び、番号で答えなさい。

- (あ)リマン (い) 対馬 (う) 日本 (え) 千島
- (あ)リマン (い) 千島 (う) 日本 (え) 対馬
- (あ) 対馬 (い) 日本 (う) 千島 (え) リマン
- (あ) 対馬 (い) リマン (う) 千島 (え) 日本
- (あ) 日本 (い) 千島 (う) リマン (え) 対馬
- (あ) 日本 (い) 対馬 (う) リマン (え) 千島
- (あ) 千島 (い) リマン (う) 対馬 (え) 日本
- (あ) 千島 (い) 日本 (う) 千島 (え) リマン

(4) 地図中(ア)~(ウ)の線はそれぞれ何と呼ばれていますか。正しい組み合わせを次の ~ の中から1つ選び、番号で答えなさい。

- (ア) 経線 (イ) 北回帰線 (ウ) 緯線
- (ア) 経線 (イ) 緯線 (ウ) 北回帰線
- (ア) 緯線 (イ) 北回帰線 (ウ) 経線
- (ア) 緯線 (イ) 経線 (ウ) 北回帰線
- (ア) 北回帰線 (イ) 緯線 (ウ) 経線
- (ア) 北回帰線 (イ) 経線 (ウ) 緯線

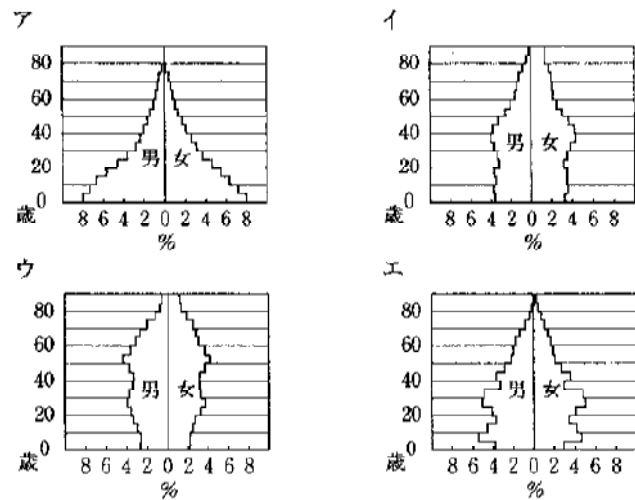
(5) 地図中(ア)と(イ)は何度の線を示していますか。正しい組み合わせを次の ~ の中から1

つ選び，番号で答えなさい。

- (ア) 東経<sup>とうけい</sup>120度 (イ) 北緯<sup>ほくい</sup>30度
- (ア) 東経120度 (イ) 北緯40度
- (ア) 北緯30度 (イ) 東経120度
- (ア) 北緯40度 (イ) 東経120度
- (ア) 東経135度 (イ) 北緯30度
- (ア) 東経135度 (イ) 北緯40度
- (ア) 北緯30度 (イ) 東経135度
- (ア) 北緯40度 (イ) 東経135度

(横浜中学校)

- 4 右のいわゆる人口ピラミッドは日本，アメリカ合衆国，中国，エチオピアのいずれかのものです。日本のものを選び記号で答えなさい。  
\*この統計は1995年から2000年までのいずれかの年のものです。グラフ中の%（横軸）は，総人口における各年齢層の占める割合や男女比を示しています。
- 2001/2002年度版「世界国勢図会」より作成しました。



(渋谷教育学園幕張中学校)

- 5 次の文章を読んで，あとの問いに答えなさい。

日本列島の東のはしはおよそ東経154°，西のはしはおよそ東経123°にあり，日本の標準時は，明石を通る東経(あ)°を基準にしています。南のはしはおよそ北緯[ ]，北のはしはおよそ北緯45°にあります。そして，日本列島の形は南北に細長く，鹿児島から稚内までの距離は，直線でおよそ[ ]キロメートルあります。気候は四季の変化に富み，降水量も年平均でおよそ[ ]ミリメートルあり，世界の中でも雨の多い国のひとつです。日本の国土の面積はおよそ37万8000平方キロメートルで，そのうち九州の面積は四国の面積の約(い)倍，北海道の面積は九州の面積の約(う)倍，本州の面積は北海道の面積の約(え)倍あります。

最近よく新聞などで話題にのぼる北方領土とは，(お)諸島，色丹島，択捉島，国後島の四島のことを言います。この四島の面積の合計はおよそ5014平方キロメートルで，[ ]の面積とほぼ同じになります。

問1 文中の(あ)～(お)にあてはまる語句や数字(整数)を答えなさい。

問2 文中の[ ]～[ ]にあてはまる語句や数字を，次の中からそれぞれ一つずつ選び，記号で答えなさい。

- (ア) 15°      (イ) 20°      (ウ) 25°      (エ) 30°      (オ) 35°  
 (ア) 1200      (イ) 1400      (ウ) 1600      (エ) 1800      (オ) 2000  
 (ア) 1100      (イ) 1300      (ウ) 1500      (エ) 1700      (オ) 1900  
 (ア) 山形県      (イ) 静岡県      (ウ) 石川県      (エ) 長崎県      (オ) 千葉県

(聖光学院)

6 日本の国土について、問いに答えなさい。

問1 日本の国土面積について述べた次のア～エの文で、誤っているものを一つ選び、記号を書きなさい。

- ア 日本の国土面積は、世界で最も広いロシアの45分の1にすぎない。  
 イ 日本の国土面積は、ヨーロッパのドイツやイギリスよりもせまい。  
 ウ 日本の国土面積は、世界でおよそ60番目にあたり、比較的大きい国である。  
 エ 日本の国土面積は、隣国の大韓民国の3倍以上である。

問2 日本の国土面積は、およそ何万km<sup>2</sup>か。次のア～エから一つ選び、記号を書きなさい。

- ア 10万km<sup>2</sup>      イ 24万km<sup>2</sup>      ウ 38万km<sup>2</sup>      エ 55万km<sup>2</sup>

問3 右の地図中の①は、日本の標準時子午線を示しています。この線は東経何度ですか。

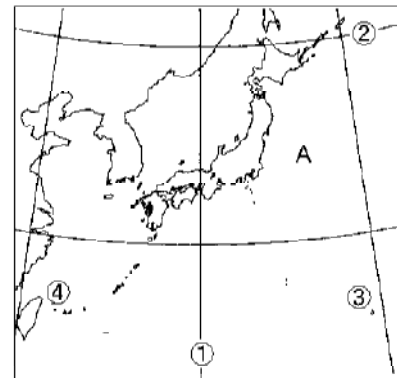
問4 地図中の②は、日本で最も北に位置する島を通過しています。この線は北緯何度ですか。

- ア 30度      イ 35度      ウ 40度      エ 45度

問5 地図中の③は日本で最も東に位置する島、④は最も西に位置する島です。それぞれの島の名を次から選び、記号を書きなさい。

- ア 択捉島      イ 国後島      ウ 南鳥島      エ 三宅島  
 オ 与那国島      カ 屋久島      キ 沖ノ鳥島

問6 地図中のAは、日本をとりまく海洋の一つです。その海洋名を書きなさい。



(横浜英和女学院)

7 日本の人口問題は、近年少子化と高齢化が進み、新たな難問を抱えることになりました。

問13 東京の50km圏内の人口は過密状態だといわれています。具体的にはそこにどのくらいの人々が住んでいますか。次のア～オの中からほぼ該当する数字を一つ選び、記号で答えなさい。

- ア 約800万人      イ 約1500万人      ウ 約3000万人      エ 約4500万人  
 オ 約5000万人

問14 都道府県別の人口密度(人/km<sup>2</sup>)を調べると、極端に差のあることが分かりました。次の数字は密度の高い方3都道府県(ア・イ・ウ)と、低い方3都道府県(エ・オ・カ)の人口密度(人/km<sup>2</sup>)を示しています。(A)大阪府と(B)岩手県に関係のある数字をさがし、それぞれア～カの記号で答えなさい。(1999年)

ア 5413    イ 4950    ウ 3496    エ 103    オ 93    カ 73

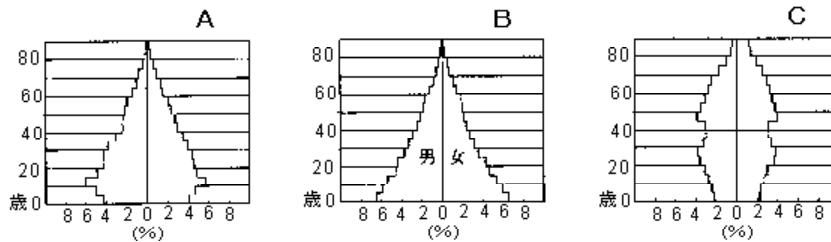
問15 日本では65歳以上の高齢者の割合は、全国的には18.5%（2002年）ですが、都道府県別にみるとかなりの差があります。高齢者の割合の最も大きな都道府県を次のア～オの中から一つ選び、記号で答えなさい。

ア 沖縄県    イ 島根県    ウ 京都府    エ 神奈川県    オ 北海道

問16 次の3枚の図は日本の人口構成を示しています。人口構成は社会の動きとともに変化し、それぞれの時代を反映しているといわれています。3枚の図を古い方から順に新しいものへと並べるとどのようになりますか。次のア～カの組み合わせの中で正しいものを一つ選び、記号で答えなさい。

ア A B C    イ A C B    ウ B A C    エ B C A

オ C A B    カ C B A



問17 日本の産業別の人口構成についてのべた次のア～ウの文の中で、正しい文を一つ選び、記号で答えなさい。（1995年国勢調査）

- ア 第1次産業人口の割合が日本で最も大きい県は岩手県で、鹿児島県がそれにつづいています。
- イ 第2次産業人口の割合が日本で最も大きい県は岐阜県で、滋賀県とともに50%をこえています。
- ウ 第3次産業人口の割合が70%をこえているのは沖縄県と東京都の二つの都県だけです。

（城北中学校 一部略）



【解答】

1

問1 アえ イお ウき エい オか カち キあ クく ケこ コて

問2 ウ エ オ イ カ シ

問3 (1) う (2) さ (3) す

問4 遣唐使 問5 (1) そ (2) ち (3) な

問6 (1) う、人口が少ない地域の臨海部にあるから。

(2) い、ダムをつくりやすい山間部にあるから。

(3) あ、工業がさかんな地域にあるから。

問7 京都議定書 問8 (1) く (2) あ (3) に

問9 (1) う (2) い (3) あ 問10 潮目(潮境)

2

(1) ウ (2) ア (3) エ (4) A 板門店 (5) ア

(6) 日本海流(黒潮)

宮崎平野や高知平野では、暖かい黒潮の影響を利用し、野菜の促成栽培を行っている。

3

(1) オ (2) カ (3) (4) (5)

4

ウ

5

問1 あ 1 3 5 い 2 う 2 え 3 お 歯舞

問2 イ エ エ オ

6

問1 イ 問2 ウ 問3 東経135度 問4 エ

問5 キ オ 問6 太平洋

7

問13 ウ 問14 Aイ Bオ 問15 イ 問16 ウ 問17 ウ