

入試問題演習 その6

3-16

1 次の文を読んで下の問いに答えなさい。

国民一人一人の意見をたいせつにして、公平な政治のしかたを決めるのが、民主主義の政治です。ところが、すべての国民が1か所に集まって、要求や意見を出しあうことは、できることではありません。そこで、多くの国では、代議政治を行っています。代議政治では、選挙によって代表者を選び、その人を通して、国民の要求や意見が政治にとり入れられるようにしています。選ばれた代表者は、国会に集まって討議し、多数決によって国の政治の進めかたを決めます。政治を進めるには、個人よりも集団のほうが、国会で要求を通しやすいし、また、政治について研究や討論もできるので、同じような考えをもっている人々が集まって、政党をつくっています。それで、国民は、選挙のとき、候補者の意見や人がらだけでなく、政党の主張や活動も考えて選ぶこととなります。このように、国の政治は、選挙で選ばれた代表者で進められるので、選挙が自由に正しく行われることがとても大切になります。そのために、日本国憲法は、選挙に関するいくつかの原則を定めています。さらに、選挙に関しては、公職選挙法が定められています。選挙のきまりで重要なものには選挙区制もあります。選挙区制には、1選挙区から1名の議員を出す(1)選挙区制と、2名以上の議員を出す(2)選挙区制とがあります。さらに、かく政党の得票数に応じて議員数を割りあてる(3)のしくみもあります。1選挙区あたりの議員数は有権者すなわち選挙権をもっている人の数に比例して決めるのが原則です。しかし、人口の移動がはげしいと、しばしばその不均衡ふきんこうがおこります。ところで、日本では、国会で多数を占めた政党が内閣をつくっていきませんが、このようなしくみを(4)と呼んでいます。このようなしくみのもとでは、(5)には、多数党の党首が選出されることになるのがふつうです。日本では、昭和30年以来、1993年までの長期間、(6)の党首が選出されていました。

問1 上の文中の空らん(1)・(2)に最も適する語句を次の中から選び記号で答えなさい。

ア 大 イ 中 ウ 小

問2 上の文中の空らん(3)に適する語句を漢字5文字で答えなさい。

問3 上の文中の空らん(4)に適する語句を漢字5文字で答えなさい。

問4 上の文中の空らん(5)に適する語句を漢字6文字で答えなさい。

問5 上の文中の空らん(6)に適する政党名を、次の中から選び記号で答えなさい。

ア 自由党 イ 自由民主党 ウ 日本社会党 エ 公明党 オ 民社党

カ 日本共産党 キ 社会民主連合 (注 当時の政党名、その後いくつか政党名が変わりました。)

問6 下線部 に関し、日本では、第二次世界大戦後5つの政党で政治を始めましたが、昭和30年には3つの政党になりました。その3つを問5の語群から選び記号で答えなさい。

問7 下線部 に関し、日本国憲法が明記していないものを次の中から選び記号で答えなさい。

ア 投票の秘密 イ 直接選挙 ウ 普通選挙

問8 下線部 の法律に定められていることとして正しくないものを次の中から選び、記号で答えなさい。

ア 衆議院議員に立候補できるのは25歳さい以上の人であること

イ 選挙運動のため戸別訪問をしてもよいこと

ウ 選挙運動の期間に政見放送を無料で行うこと

問9 2000年の選挙から衆議院議員総選挙の選挙制度がかわりました。(A)小選挙区の議員定数と、(B)比例代表

の議員定数を答えなさい。

問10 最近の国会議員の選挙の投票率は全国平均でどのくらいですか。次の中から最も適するものを選び記号で答えなさい。

- ア 50% イ 60% ウ 70% エ 80% オ 90%

問11 次の文のうち正しいものには「 」、誤っているものには「 × 」を記しなさい。

- ア 衆議院議員の選挙では政党の名で投票するものもある。
 イ 衆議院議員の選挙ではすべて候補者の名で投票する。
 ウ 衆議院と参議院の選挙を同じ日に行うことはない。

問1	(1)	(2)	問2					問3				
問4						問5		問6				問7
問8		問9	A	B	問10		問11	ア	イ	ウ		

(開成中学 改題)

2

問1 ()の中にもっとも正しい語句を自分で考えて記入しなさい。

日本の国民は(ア)歳になると男女ともすべての人が選挙権をもちます。また、(イ)歳になると衆議院議員や都道府県および市町村議会の議員や市町村長に、また、(ウ)歳になると参議院議員や(エ)に選ばれる候補者になることができます。国民が平等に選挙についての権利をもつことは、民主政治を行う上で、もっとも大切なことです。

さて、選挙のしくみは、どうなっているでしょうか。選挙の時、候補者は政治に対する意見や考えを国民に述べます。立候補者の大部分は、(オ)と結びついており、その(オ)は、多くの人々の共通の希望を実現する方法を考え、国民の前にこれをしめし、実行を約束します。これを(カ)とよんでいます。

次に選挙区についてですが、今の日本では、衆議院は1選挙区から3～5名が選ばれる、中選挙区制をとり、参議院は(キ)制と選挙区制よりなりたっていました。衆議院は選挙制度が小選挙区比例代表並立制とあらためられました。これらの選挙のことについては、(ク)法によって、総合的に決められています。また、選挙には間接選挙と代表者を直接選ぶ直接選挙とがありますが、日本国憲法では、この選挙のほかに任意・(ケ)・秘密選挙を定めています。

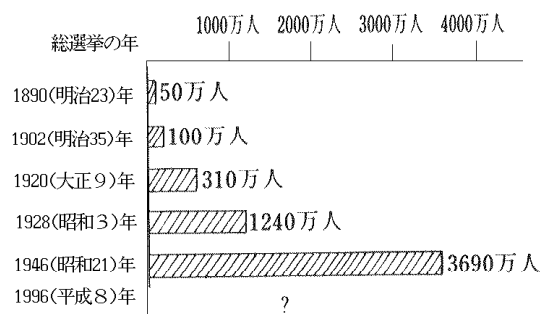
問2 右の表は、日本の有権者数の増加をしめしたものです。下

の(1)～(6)の問いに答えなさい。

(1) 1890年の選挙で有権者の人口に対する割合は、次のうち、およそどれくらいだったでしょうか。

- 1.1% 21.3% 41.3%
 61.3% 81.3%

(2) 1890年の選挙は国税を15円以上、1902年の選挙では国税を10円以上おさめる者のみが選挙権をもっていました



た。このような選挙のことは何といいますか。

(3) 1928年の選挙で有権者が増加しましたが、この時の選挙を何といいますか。

(4) 1946年の選挙で有権者が急に増加したのは、なぜですか。20字以内で説明しなさい。

(5) 1996年10月の選挙で有権者の人口に対する割合は、次のうちおよそどれくらいでしょうか。

50.3% 60.1% 40.6% 78.6% 90.6%

(6) 1996年の選挙で有権者数は、およそどれくらいでしょうか。

2700万人 4700万人 6700万人 9800万人 10700万人

問1	ア		イ		ウ		エ		オ		カ	
	キ				ク				ケ			
問2	(1)		(2)				(3)					
	(4)											
	(5)		(6)									

(聖光学院中学 改題)

参考 選挙権が18歳に引き下げられて初めての国政選挙 第24回参議院議員選挙 2016年7月10日

投票率は54.70%で、前回3年前の参院選に比べて2.09ポイント上回った (総務省まとめ)。

18歳の有権者数は1,194,344人、投票率は51.28% (7月11日公表抽出調査51.17%)。18歳19歳の投票率46.78%。

ウィキペディア より

有権者の人口に占める割合は、83%程度

選挙区選挙 都道府県別だが、人口減少のため 2つの県で一つの選挙区 徳島と高知、島根と鳥取が合区となった。

1 次の文章を読み、あとの問いに答えなさい。

「****は、アメリカ大陸の生まれで、南米のアンデス山脈の中腹に栄えたインカ族によって栽培されたのが始まりといわれる。しかし、ヨーロッパへの伝来はわりに新しく、十六世紀ごろだ。(中略)寒い土地でもよく育ち、成育期間が短く、また一定の時期まで待って収穫する穀物とちがって、(中略)収穫時期に幅がある。日本へは慶長年間にジャワから、寛政年間に[A]から、さらに明治に入ってアメリカや[B]からはいつてきた。はじめはジャワの都市バタビアの当時の名が変じて、と呼ばれていた。日本でも輸入の初期には、ただ観賞用の植物とされていたのが、渡来後約九十年たったところから食料としての栽培がすすみ、そのおかげで天明、天保の凶作の時には真価が認められて、だんだん普及した。」(大塚滋『たべもの文明考』より)

- 問1 上の文は、ある作物の伝来についての説明です。作物の名を答えなさい。
- 問2 現在、問1の作物の生産量が全国の約3分の2を占める都道府県の名を答えなさい。
- 問3 文中の[A]にはサンクトペテルブルグ、[B]にはダブリンという都市があります。[A]・[B]の国名を答えなさい。
- 問4 下線 かつてインカ帝国の中心地で、1997年現在日系人が大統領を務めている国は、どこですか。国名を答えなさい。
- 問5 下線 ヨーロッパへは、中南米の大部分を支配することになった国が伝えました。ある国とはどこですか。
- 問6 下線 のころ、ジャワに進出した国がつくった貿易会社を答えなさい。
- 問7 下線 / / の時代に生きた人物の組み合わせ(時代順)として正しいものを次から選び、記号で答えなさい。
 あ 徳川家康 / 大塩平八郎 / 間宮林蔵 い 徳川家康 / 水野忠邦 / 松平定信
 う 伊達政宗 / 本居宣長 / 高野長英 え 徳川家康 / 渡辺華山 / 杉田玄白

1		2		3	A		B	
4		5		6			7	

(市川)

2 つぎの文を読んであとの問いに答えなさい。

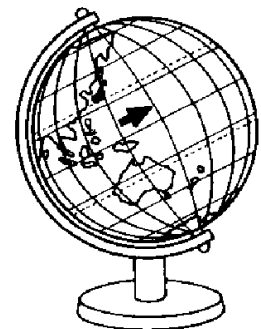
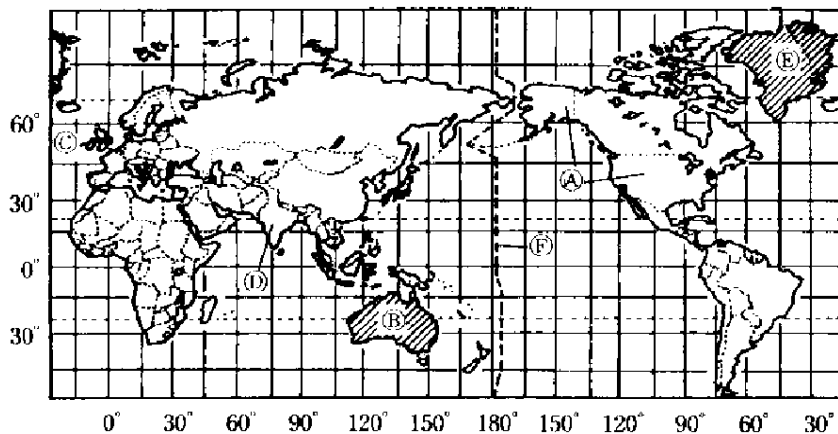
国際化が進んでいる今日、航空機の発達によって、昔なら何日もかかった外国さえ一日足らずで行けるようになりました。

それにともなって、日本でもたくさんの人々が色々な目的で外国へ出かけたり、又、外国からやってきたりしています。法務省の統計によると1994年7月1日から8月31日までの2ヶ月間に外国へ出かけた日本人は254万9千人にものぼっており、昨年と同じ時期には確実に300万人以上になったろうと予想されます。

山手太郎君の家では、めでたく太郎君が中学生になったら夏休みに家族4人で海外へ観光旅行に出かけることにな

り、 さっく図、 図 のような地図と模型を持ってきて話しあいました。

〈図Ⅰ〉



〈図Ⅱ〉

太郎「ぼくは(A)に行ってみたいな。国際連合の本部はこの国にあるんだよね。面積も世界で4番めに広いんだ。」
花子「私は絶対に(B)がいいな。自分でコアラをだいてみたい。有名なオペラハウスも見てみたいし。」
母「私は『ベニスの商人』や『ハムレット』を書いたシェークスピアの生まれた(C)へ行きたいわ。この国の国会議事堂の時計塔にある鐘は“ビッグベン”とよばれて世界中の人々に愛されているのよ。」
父「ぼくはぜひ、仏教の発祥の地である(D)を訪れてみたい。世界でもっとも美しいといわれる建物の一つタージマハルも見てみたい。」

問1 前の文中の(A)～(D)に入る適切な国名を書きなさい。

問2 《図》について、つぎの文中の(1)～(3)に入る適切な語句を書きなさい。

《図》のような地図の描きかたを(1)図法という。この図法では、地球を実際の球形としてではなく(2)形として考えているので、点であるはずの北極や南極は限りなく拡大されてしまう。同時に、緯度の高い地方もずいぶん拡大されてしまうことになる。例えば、《図》中のE(グリーンランド)とBの面積を比べると、実際はBの方が3.5倍も広い。

また、この地図では方位も正しくは示されない。日本の横浜から東の方位に位置するように見えるAの都市ロスアンゼルスは、実際は八方位の(3)に位置している。

地図は、折りたたみもでき、持ち運びに便利であるが、地球を平面に書き表したものであるから、面積・距離・方位・形など全てを一枚に正確に表すことはできない。用途に応じて、正しく使いわけることが必要である。

問3 《図》について、つぎの文中の(1)～(8)に入る適切な語句を書きなさい。

《図》のように、地球のすがたをそのまま縮めたような模型を(1)という。地球の地軸は、太陽を回る公転面の垂直な線に対して傾いている。この傾きのため、地球では(2)のようなことが起こる。

また、地球は 印の方向に自転しているのので、西へ行くほど日の出が遅くなる。つまり時間が遅くなる。360度を1回転するのに1日(24時間)かかるから、経度(3)度で1時間の違いが生まれる。この違いを(4)という。

Cの都市ロンドン郊外にある旧グリニッジ天文台を通る経線(経度0度)を基準に、東半球では経度(3)度ごとに1時間進み、西半球では1時間遅れる。東経、西経とも180度(12時間)のところでは、東経のほうは半日早まり、西経のほうは半日遅れることになり、すなわち、1日(24時間)の違いができるので、東(西)経180度に沿って《図》中のFのような(5)を設けて世界全体の時刻のずれの調整をはかっている。

日本では(6)市を通る東経(7)度を標準時の基準としている。日本やCのように南北に細長い国土の国

々では、標準時は1つですむが、AやBのように東西に国土の広い国々では複数の標準時が使われ、地域によって時刻が異なる。

たとえば、Cのロンドンが午前11時のとき、日本の横浜は(8)時。A国のワシントンは午前6時であるが同じA国のロスアンゼルスでは、まだ午前3時ということになる。

問1	A		B		C		D	
問2	1		2		3			
問3	1		2		3		4	
	5		6		7		8	

(山手学院)

③ 世田谷学園の中学校3年生は、毎年10月に修学旅行でカナダを訪れています。次の文は、カナダの修学旅行へ旅立つ前の先生と生徒の会話文です。これを読んで、あとの問いに答えなさい。

先生 カナダ修学旅行での簡単な日程を説明しておきます。まず初日は成田空港からカナディアン航空を利用して、日付変更線を通過後、バンクーバー空港からカナダに入国します。この時に日付は1日遅らせることになるから注意すること。さらに国内線に乗りかえ、バンフに移動し、そこで宿泊することになります。2日目は、終日バンフ国立公園を見学し、3日目からはピクトリアに移動し、姉妹校の家庭に3日間滞在^{たいざい}します。つづいて6日目には、バンクーバーに移動して、また別の姉妹校と交流してバンクーバー市内を見学します。そして7日目の午後にはバンクーバーから日本に帰ることになります。

さて、いよいよあと半年で、君たちはカナダに出発することになりますが、カナダのことについて、いろいろと勉強していますか。

生徒A もちろんですよ。日本の国土の約(1)倍で、連邦制をとっていて、連邦政府と州政府との間で立法権が分割されているんですね。しかも英語とフランス語を公用語としています。

生徒B それにカナダにとって日本は、輸入・輸出ともアメリカに次ぐ貿易相手国だし、(a) 資源の少ない日本は、カナダからいろいろな原材料を輸入しています。

先生 そうです。カナダの森林面積は国土の約36パーセントを占めているから、林業がさかんだし、(b) 日本への輸入には、木材がもっとも多く輸出されているのです。

生徒C 先生。カナダ人の家庭に滞在するけれど、その時のおみやげはどうすればいいのですか。

先生 心のこもったものであれば何でもいいけど、特に日本の伝統工芸品などは喜ばれます。

生徒C 伝統工芸品というと、たとえば(c) 輪島塗・津軽塗などの漆器や、有田焼・備前焼などの陶磁器、それに土佐和紙・美濃紙などですね。

先生 そんなに高価でなくてもいいから、各自が工夫しなさい。他に質問はありませんか。

生徒A 先生、カナダと日本の時差はどのくらいですか。

先生 カナダは広大な国だから、6つの標準時間が使用されています。最初に訪れるバンクーバーは西経120

度に近いから、日本が2月2日の午前9時だと、バンクーバーは2月(2)になるわけです。

生徒B なるほど。もっと僕らも勉強しないとだめですね。これからがんばるぞ。

問1 (1)にあてはまる数字を次の(ア)～(オ)の中から選び、記号で答えなさい。

(ア) 16 (イ) 18 (ウ) 21 (エ) 26 (オ) 30

問2 (2)にあてはまるものを次の(ア)～(カ)の中から選び、記号で答えなさい。

(ア) 1日午後4時 (イ) 1日午後7時 (ウ) 2日午後4時

(エ) 2日午後8時 (オ) 3日午後7時 (カ) 3日午後8時

問3 下線部分(a)について、日本はさまざまな資源を輸入にたよっていますが、1993年現在で輸入依存度が100%の輸入品は何ですか。次の(ア)～(エ)の中から選び、記号で答えなさい。

(ア) ポークサイト (イ) 石炭 (ウ) 原油 (エ) 天然ガス

問4 下線部(b)に関連して、日本の木材輸入先について述べた文があります。次の(ア)～(エ)の中から1993年現在のものとして正しいものを選び、記号で答えなさい。

(ア) 日本にとってカナダは、第1位の木材輸入先で、ついでアメリカ合衆国、マレーシアと続きます。

(イ) 日本にとってカナダは、アメリカについて第2位の木材輸入先です。

(ウ) 日本の木材輸入先は、第1位がアメリカ合衆国で、ついでマレーシア、第3位がカナダです。

(エ) 日本の木材輸入先は、第1位がアメリカ合衆国で、ついで旧ソ連、マレーシア、カナダと続きます。

問5 下線部分(c)について、この輪島塗の生産地は、どこにありますか。その県庁所在地名を答えなさい。

問6 次の(ア)～(オ)の国旗の中から、カナダの国旗を選び記号で答えなさい。



(ア)

(イ)

(ウ)

(エ)

(オ)

問1		問2		問3		問4		問5		問6	
----	--	----	--	----	--	----	--	----	--	----	--

(世田谷学園)

4 つぎの文章と地図について、あとの問に答えなさい。

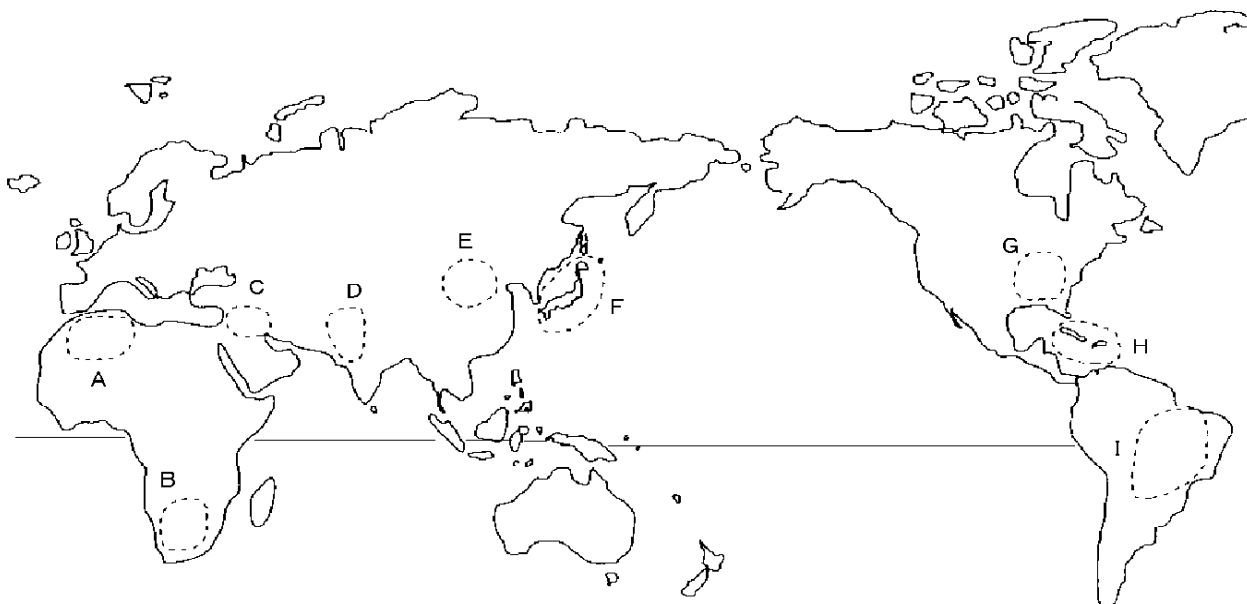
こんがり焼けたトーストと砂糖入りのコーヒー、そしてサラダ。これらは最近では、日本の朝の食卓にすっかり定着した観があります。このような朝食は今でこそごくありふれたものですが、いろいろ調べてみると世界のさまざまなことがらと深くつながっていることがわかるのです。そこで、これから私たちの食卓を通して、世界を見ていくことにしましょう。

たとえば、砂糖とコーヒー。今ではあたりまえの組み合わせですが、長い間このふたつが結びつくことはありませんでした。実はコーヒーに砂糖を入れて飲む習慣は、17世紀から18世紀にかけての時期のヨーロッパ世界でだいに広まっていったものなのです。そしてこの習慣は、19世紀からはヨーロッパ以外の世界各地に広まり、日本にも入ってきました。また、パンの原料となる小麦は人間が食用に栽培した最初の植物といわれ、しかも現在にいたるま

で世界の多くの人々の主食でありつづけています。

そしてサラダ。よくサラダは塩で味付けをして食べますが、サラダという言葉自体が「塩」を意味する語からきています。塩は私たちの生活にとって欠かせない、非常に大切なものであることは言うまでもないでしょう。歴史的に見ても、塩はいろいろな面で重要な役割を持っていました。

私たちのふだんの食事ひとつとってみても、思いもよらぬところで世界とつながっています。



問1 ヨーロッパで砂糖入りのコーヒーをのむ習慣が広まったところから現在にいたるまで、砂糖とコーヒーの原料がさかんに生産されている地域はどこですか。その地域を地図上の記号で示し、代表的な国名を一つずつ答えなさい。

問2 19世紀以降、砂糖入りのコーヒーを飲む習慣だけでなくヨーロッパのさまざまな制度や技術、文化が世界に伝わりました。

ア) ヨーロッパのさまざまなものがヨーロッパ以外の国々に伝わったのは、なぜだと思いますか。

イ) 19世紀なかば以降の日本とヨーロッパの国々との関係について、知っていることを書きなさい。

ウ) これ以前に、すでにヨーロッパから日本に伝わっていたものがあります。二つ答えなさい。

問3 小麦の栽培は、いまから約一万年前に、現在のシリアやイラクのあたりで始まりました。

ア) 小麦が最初に栽培された地域を、地図上の記号で示しなさい。

イ) 小麦、その他の穀物を栽培することで、人々の生活のあり方はそれまでと比べて大きく変わったといわれています。どのように変わったと思いますか。また、どんなことからそれがわかりますか。

ウ) 現在、日本で消費されている小麦のほとんどは、外国からの輸入にたよっています。小麦を日本へ輸出している代表的な国はどこですか。一つ答えなさい。

問4 サラリーマンのサラリーとは英語で「給料」という意味ですが、これももともと「塩」を意味する語からきています。かつて塩は食用以外にどのように利用されていたと考えられますか。君の思うところを書きなさい。

問5 私たちの衣食住にかんして、この問題でふれたもの以外で、世界と深くかかわっていると考えられるものを例として取りあげ、それについて説明しなさい。

問 1	砂糖		コヒー	
問 2	ア			
	イ			
	ウ			
問 3	ア			
	イ			
	ウ			
問 4				
問 5				

(武蔵)

1 次の文を読み下の問いに答えなさい。

A国と国との争いや対立を話し合いによって解決するためにつくられた国際的組織が、B国際連合である。そのおもな機関として、C安全保障理事会など6つがある。また、D専門機関もつくられており、たとえば、(1)は教育や科学や(2)を通じて、世界の人々に(3)を求める心をうたっている。「戦争は人の心の中で生まれるものであるから、人の心の中に(3)のとりでをきずかなければならない」としている。

- 問1．文中の()内に用語を入れよ。(1)はカタカナで答えよ。
 問2．下線A。1989年、米ソ首脳会議が開かれ冷戦の終結を確認した都市はどこか。
 問3．下線B。日本が加盟してから、およそ何年になるか。記号で答えよ。
 イ．50年 ロ．40年 ハ．30年 ニ．20年 ホ．10年
 問4．下線C。日本はこの機関の何に選ばれたことがあるか。漢字6字で答えよ。
 問5．下線D。世界各国の人々の健康をたもつための仕事をする機関は何か。

問1	1		2		3		問2	
問3			問4		問5			

(市川 改題)

2 右の<年表>と<日本のおもなできごと>を参考にして、あとの問いに答えなさい。

<日本のおもなできごと>

<年 表>

- (あ) サンフランシスコ平和条約に調印する。
- (い) オリンピック東京大会が開催される。
- (う) 日本国憲法が公布される。
- (え) 教育基本法が公布される。
- (お) ポツダム宣言を受諾する。
- (か) 沖縄が本土に復帰する。
- (き) ソ連との国交が回復する。
- (く) 湯川秀樹がノーベル平和賞を受賞する。
- (け) 警察予備隊が発足する。

年代	世界のおもなできごと
1945	(1)国際連合が成立する。
1948	(2)国際連合で(*)を採択する。
1950	(3)朝鮮戦争が始まる。
1955	(4)第一回アジア・アフリカ会議が開催される。
1962	(5)キューバ危機がおこる。
1967	(6)第三次中東戦争がおこる。
1969	(7)アメリカのアポロ11号が月面着陸に成功する。
1974	(8)国連資源特別総会が開催される。
1983	(9)大韓航空機墜撃事件がおこる。
1987	(10) I N F 全廃条約が調印される。

問1 <年表>の(1)について、

1、国際連合の機関のうち、国と国との争いを解決し、平和と安全を守るために活動をする機関は何ですか。漢

字で答えなさい。

2、国際連合のうち、教育・科学・文化をとおして、世界の平和を築くために活動をする機関は何ですか。

問2 <年表>中の(*)にあてはまる語句を、次のア～オの中から選び、記号で答えなさい。

- ア 人間環境宣言 イ 世界人口行動計画 ウ 平和のための結果決議
エ 世界人権宣言 オ 植民地独立宣言

問3 <日本のおもなできごと>の(あ)について、この条約と同時に日本が結んだ軍事条約は何ですか。

問4 <日本のおもなできごと>の(う)について。

- 1 この憲法では、主権は誰にありますか。
2 この憲法で定めている、国民の義務を三つ書きなさい。

問5 <日本のおもなできごと>の(か)、(き)について、これらと同じ年におきたできごとを、次のア～クの中からそれぞれ選び、記号で答えなさい。

- ア 労働組合法が公布される。 イ 東海道新幹線が開通する。
ウ 日本の国際連合加盟が認められる。 エ ベトナム戦争が始まる。
オ 日本と中国の国交が正常化する。 カ 農地改革がおこなわれる。
キ アメリカがビキニで水爆実験をする。 ク 石油ショックがおきる。

問6 <年表>と<日本のおもなできごと>を比較すると、同じ年におきたできごとが2組あります。その正しい組み合わせを、次のア～オの中から選び、記号で答えなさい。

- ア (1)と(お)、(3)と(け) イ (1)と(う)、(5)と(い) ウ (3)と(あ)、(6)と(く)
エ (4)と(え)、(9)と(か) オ (7)と(き)、(10)と(え)

問1	1					2				
問2			問3							
問4	1									
		の義務			の義務					
	2	義務								
問5	か		き		問6					

(世田谷学園中学 改題)

3 次の文章を読んで、下の問いに答えなさい。

第二次世界大戦後、国際連盟にかわる新しい国際平和機構として、国際連合（国連）が成立しました。国連の目的や組織は、国連憲章に書かれております。その目的を果たすために、毎年1回、総会を開きます。なかでも、世界の平和と安全とを保つための仕事の中心になっているのは、安全保障理事会です。ここでは地域の戦争の解決をはかったり、ときには国連軍を送る決定をしたりします。この他に世界の国々が経済・教育・文化・科学などの交流や協力をするための多くの専門機関をもつ経済社会理事会や、国際紛争を裁くための国際司法裁判所など、国連は複雑な組織になっています。

問1 下線 に関して、(1) 成立したのは西暦何年^{れき}ですか。また、その時の加盟国は何か国でしたか。

(2) 本部は、どこの都市にありますか。 (3) 日本が加盟したのは西暦何年ですか。

問2 下線 に関して、総会の議決にふさわしくないものを次の中から1つ選び、記号で答えなさい。

A 一国一票の原則 B 通常は過半数の議決 C 全会一致の原則

D 重要事項は3分の2以上の議決

問3 下線 に関して、(1) 安全保障理事会の常任理事国にだけ認められている特権を何といいますか。

(2) 常任理事国をすべて答えなさい。 (3) 非常任理事国は何か国ですか。

問1	(1)	年	か国	(2)		(3)	年
問2							
問3	(1)						
	(2)						
	(3)	か国					

(駒場東邦中学)

問題演習 その6 解答

3 - 16

1

問1 1 ウ 2 ア 問2 比例代表制 問3 議院内閣制
問4 内閣総理大臣 問5 イ 問6 イ、ウ、カ
問7 イ 問8 イ 問9 A 300 B 180
問10 イ 問11 ア イ × ウ ×

2

問1 (ア) 20 (イ) 25 (ウ) 30 (I) 知事 (オ) 政党 (カ) 公約
(キ) 比例代表 (ク) 公職選挙 (ケ) 普通
問2 (1) (2) 制限選挙 (3) 普通選挙
(4) 婦人参政権がはじめて認められたから。 (5) (6)

3 - 17

1

問1 ジャガイモ 問2 北海道 問3 A - ロシア B - アイルランド
問4 ペルー 問5 スペイン 問6 東インド会社 問7 う

2

問1 A アメリカ合衆国 B オーストラリア C イギリス D インド
問2 1メルカトル 2円筒 3北東
問3 1 - 地球儀 2 - 四季の変化 3 - 15 4 - 時差 5 - 日付変更線
6 - 明石 7 - 135 8 - 午後8

3

問1 エ 問2 ア 問3 ア 問4 ウ
問5 金沢 問6 イ

4

問1 砂糖 (記号) H (国名) キューバ
コーヒー (記号) I (国名) ブラジル

問2 ア) 18世紀後半、イギリスでおこった産業革命は他のヨーロッパ諸国にも広がった。これらのヨーロッパ諸国が市場や原料供給地を世界中に求めて、各地に植民地を獲得し経営したため、ヨーロッパのものが世界各国に広まった。

イ) 開国後の日本は、アメリカと同様の内容の不平等条約をイギリス・フランス・オランダ・ロシアと結び、この条約を改正するのに苦労した。1902年、日英同盟により、日露・第一次世界大戦と戦争を続けた。やがて日本軍国主義がイギリスやフランスと対立し、イタリア・ドイツと結び第二次世界大戦へと進んだ。現在ヨーロッパ諸国はEU(欧州連合)へとまとまりつつあり、一つの経済圏を形作っている。

ウ) 鉄砲・キリスト教

問3 ア) C

イ) 人々は小麦や他の穀物を栽培するのに必要な水をえるため、川の流れる平地に定住した。多くの人口を養えるようになり、集落や村は国家へと発展していった。これらのことはナイル川、黄河といった大きな川の流域に古代文明が栄えたことからわかる。

ウ) アメリカ合衆国

問4 お金のかわりに用いられていた。

問5 (例)

日本は漁介類を大量に輸入している。東南アジアの国には日本向けのえびの養殖のために、マングローブの森を伐採したりし、環境破壊につながった例もある。

3 - 18

1

問1, 1 - ユネスコ 2 - 文化 3 - 平和

問2, マルタ

地中海のマルタで行われた米・ソの首脳会談。東欧革命やベルリンの壁崩壊を受けて、アメリカ合衆国大統領ジョージ・H・W・ブッシュとソビエト連邦最高会議議長兼ソビエト連邦共産党書記長ミハイル・ゴルバチョフによる首脳会談で、第二次世界大戦末期のマルタ会談に始まった米ソ冷戦の終結を宣言した。

問3, イ

問4, 非常任理事国 問5, 世界保健機関(WHO)

2

問1 1、安全保障理事会 2、ユネスコ(国連教育科学文化機関)

問2 エ

問3 日米安全保障条約

問4 1, 国民 2, 納税の義務・教育を受けさせる義務・勤労の義務

問5 (か) オ (き) ウ 問6 ア

3

問1 (1) 1945年・51カ国 (2) ニューヨーク (3) 1956年

問2 C

問3 (1) 拒否権

(2) アメリカ合衆国、ロシア、中華人民共和国、イギリス、フランス

(3) 10カ国